

نام و نام خانوادگی:
 پایه و رشته:
 نام پدر:
 شماره داوطلب:

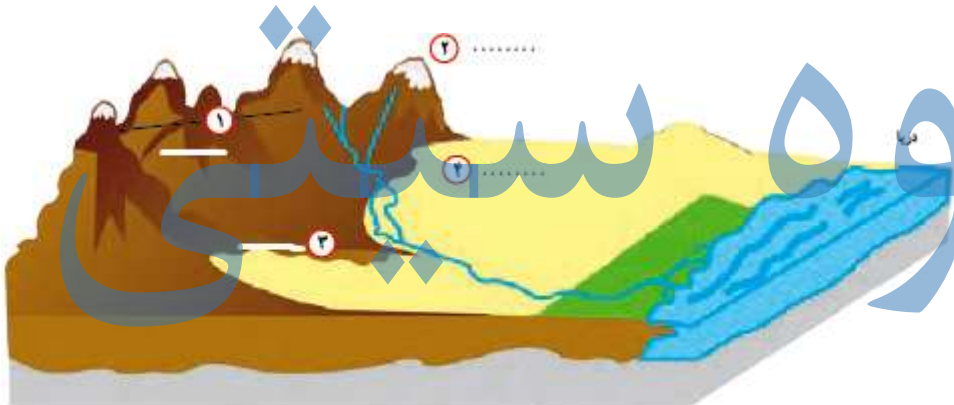
اداره کل آموزش و پرورش شهر تهران
 مدیریت منطقه ۲
 دبیرستان دوره اول پسرانه *سوروش*
 مرزداران
 امتحانات نوبت دوم سال تحصیلی ۹۶-۱۳۹۵

نام درس:
 تاریخ امتحان:
 ساعت امتحان:
 مدت امتحان: دقیقه.

نمره به عدد:	نمره به حروف:	نمره تجدید نظر به عدد:	نمره به حروف:	محل مهر و امضاء مدیر
نام دبیر:	تاریخ و امضاء:	نام دبیر:	تاریخ و امضاء:	
ردیف	سوالات	بارم		

بخش اختیاری: فصل ۱ تا آخر فصل ۶ دانش آموز آموزان عزیز لطفاً در این بخش فقط دو فصل را انتخاب کنید و به سوالات همان دو فصل پاسخ دهید.

۰/۲۵	۱- مهمترین حق برای هر انسان چیست؟ الف) غذا <input type="checkbox"/> ب) تحصیل <input type="checkbox"/> ج) حیات <input type="checkbox"/> د) مسکن <input type="checkbox"/>	فصل اول
۰/۲۵	۲- وظایفی که هر یک از ما به عهده داریم و انتظار می رود آنها را انجام دهیم، چه نام دارد؟ الف) حقوق <input type="checkbox"/> ب) تحصیل <input type="checkbox"/> ج) مسئولیت <input type="checkbox"/> د) مشق <input type="checkbox"/>	
۰/۲۵	۳- چه چیزی موجب می شود، افراد حقوقی بر مبنای قوانین آن کشور داشته باشند. الف) اهل جایی بودن <input type="checkbox"/> ب) تبعه جایی بودن <input type="checkbox"/> ج) ساکن جایی بودن <input type="checkbox"/> د) مسافر جایی بودن <input type="checkbox"/>	
۰/۲۵	۴- ما تا آنجا می توانیم حق خود را اعمال کنیم که قانون نباشد.	
۰/۲۵	۵- ما در روابطی که با دیگران برقرار می کنیم دارای «.....» هستیم.	
۰/۲۵	۶- چیزهایی که انسان به دلیل مقام انسانی اش، شایستگی داشتن آنها را دارد، چه نام دارد؟	
۰/۲۵	۷- یکی از مهمترین دلایل پدید آمدن قوانین و مقررات در جامعه، برقراری نظم است. صحیح <input type="checkbox"/> غلط <input type="checkbox"/>	فصل دوم
۰/۲۵	۸- قانون اساسی مادر همه قانون هاست و سایر قوانین در چارچوب آن تصویب می شوند. صحیح <input type="checkbox"/> غلط <input type="checkbox"/>	
۰/۲۵	۹- هیچ کس نباید با کفش وارد نمازخانه و مسجد شود، این عبارت مربوط به کدام گزینه است؟ الف) قرارداد اجتماعی <input type="checkbox"/> ب) دستور مذهبی <input type="checkbox"/> ج) قانون <input type="checkbox"/> د) شعار سیاسی <input type="checkbox"/>	
۰/۲۵	۱۰- قانون اساسی توسط این نهاد نوشته شد. الف) مجلس خبرگان <input type="checkbox"/> ب) مجلس شورای اسلامی <input type="checkbox"/> ج) شورای نگهبان <input type="checkbox"/> د) قوه مقننه <input type="checkbox"/>	
۰/۲۵	۱۱- این نهاد بر انتخاباتی که در کشور برگزار می شود مانند انتخابات ریاست جمهوری و مجلس شورای اسلامی، نظارت می کند. الف) شورای نگهبان <input type="checkbox"/> ب) مجلس خبرگان <input type="checkbox"/> ج) قوه مجریه <input type="checkbox"/> د) قوه قضاییه <input type="checkbox"/>	
۰/۲۵	۱۲- مهمترین قانون هر کشور قانون آن کشور است.	
۰/۲۵	۱۳- این موسسه در زمان وقوع حوادث طبیعی یا جنگ ها به کمک مردم می شتابد. ()	فصل سوم
۰/۲۵	۱۴- این موسسه برای جبران زیان های مالی و جانی به وجود آمده است. ()	
۰/۲۵	۱۵- حدس بزن (هر مورد ۰/۵ نمره) با اندکی دقت به سوالات زیر پاسخ دهید. الف) یک قرارداد بین بیمه گر و بیمه شونده (بیمه گذار) است. ← <input type="text"/> ب) این مفهوم به این معناست که خود را به جای فرد دچار حادثه شده بگذاریم و احساس و شرایط او را درک کنیم. → <input type="text"/>	

۰/۵	۱۶- نوع بیمه‌های زیر را مشخص کنید.(اختیاری یا اجباری بودن) الف) بیمه وسایل نقلیه) () بیمه عمر) ()	
۰/۵	۱۷- چیستان - من کیستم؟ « خیلی زود تحت تأثیر آگهی‌های تبلیغاتی یا مُدگرایی قرار می‌گیرم و اغلب برای تفریح یا خودنمایی و چشم و هم چشمی با دیگران کالایی را می‌خرم.» ()	فصل چهارم
۰/۷۵	۱۸- نمودار مقابل را تکمیل نمایید. سه گروه عمده فعالیت‌های اقتصادی	
۰/۲۵	۱۹- تولید محصول به منظور رفع صورت می‌گیرد.	
۰/۵	۲۰- چیستان - من کیستم؟ « وسیله‌ای مهم در علم جغرافیا هستم در واقع تصویری افقی از سطح زمین هستم که به نسبت مورد نیاز کوچک شده‌ام.» ()	فصل پنجم
۱	۲۱- تکمیل مُدل: روی مُدل کنار شماره‌ها کلمه‌ی دشت، کوهپایه، قله و رشته‌کوه را بنویسید.(هر مورد ۰/۲۵ نمره). 	
۰/۲۵	۲۲- میزان دما و بارش را به صورت نمودار نمایش می‌دهیم. <input type="checkbox"/> غلط <input type="checkbox"/> صحیح	
۰/۲۵	۲۳- مرطوب‌ترین ناحیه‌ی آب و هوایی کشور ناحیه‌ی معتدل و نیمه‌خشک کوهستانی است. <input type="checkbox"/> غلط <input type="checkbox"/> صحیح	فصل ششم
۰/۲۵	۲۴- کوههای خراسان در کجای ایران قرار دارد؟ الف) شمال شرقی <input type="checkbox"/> ب) جنوب شرقی <input type="checkbox"/> ج) جنوب غربی <input type="checkbox"/> د) شمال غربی <input type="checkbox"/>	
۰/۲۵	۲۵- در ناحیه معتدل و مرطوب خزری میزان بارش از غرب به شرق چه تغییری می‌کند؟ الف) کاهش می‌یابد. <input type="checkbox"/> ب) افزایش می‌یابد. <input type="checkbox"/> ج) تغییری چندانی نمی‌کند. <input type="checkbox"/> د) ثابت می‌ماند. <input type="checkbox"/>	
۰/۵	۲۶- مهمترین عناصر آب و هوایی را بنویسید.	

بارم	بخش اجباری: فصل ۷ تا آخر فصل ۱۲ دانش‌آموزآموزان عزیز در این بخش به همه سوالات پاسخ دهید.	ردیف
۱	سوالات صحیح- غلط (۲۷ تا ۳۰)	الف
۰/۲۵	در برخی کشورها مانند سوئد و نروژ تعداد زاد و ولدها کمتر از مرگ و میرها شده است. صحیح <input type="checkbox"/> غلط <input type="checkbox"/>	۲۷
۰/۲۵	آب و خاک از منابع محدود هستند. صحیح <input type="checkbox"/> غلط <input type="checkbox"/>	۲۸
۰/۲۵	تنها رود قابل کشتیرانی در ایران، رود کارون است. صحیح <input type="checkbox"/> غلط <input type="checkbox"/>	۲۹
۰/۲۵	به نسبت مساحت یک جا به نسبت افرادی که در آنجا زندگی می‌کنند، تراکم جمعیت گویند. صحیح <input type="checkbox"/> غلط <input type="checkbox"/>	۳۰
۱/۵	سوالات چهارگزینه‌ای (۳۱ تا ۳۶)	ب
۰/۲۵	تراکم جمعیت ایران در سال ۱۳۹۰ حدود چند نفر در کیلومتر مربع بوده است؟ الف) ۲۶ نفر <input type="checkbox"/> ب) ۶۴ نفر <input type="checkbox"/> ج) ۴۶ نفر <input type="checkbox"/> د) ۶۲ نفر <input type="checkbox"/>	۳۱
۰/۲۵	دلیل جمعیت زیاد ناحیه خوزستان در کدام گزینه آمده است؟ الف) سازمانهای مهم دولتی <input type="checkbox"/> ب) آب فراوان <input type="checkbox"/> ج) داشتن معادن و ذخایر <input type="checkbox"/> د) خاک حاصلخیز <input type="checkbox"/>	۳۲
۰/۲۵	کدام گزینه با بقیه متفاوت است؟ الف) رود <input type="checkbox"/> ب) چاه <input type="checkbox"/> ج) چشمه <input type="checkbox"/> د) قنات <input type="checkbox"/>	۳۳
۰/۲۵	طبق آمار سالیانه حدود ۱۷ میلیون نفر به این شهر سفر می‌کنند. الف) اصفهان <input type="checkbox"/> ب) تهران <input type="checkbox"/> ج) مشهد <input type="checkbox"/> د) شیراز <input type="checkbox"/>	۳۴
۰/۲۵	از نظر جمعیتی ایران در مقایسه با کشورهای همسایه چگونه کشوری است؟ الف) کم جمعیت <input type="checkbox"/> ب) پر جمعیت <input type="checkbox"/> ج) نسبتاً کم جمعیت <input type="checkbox"/> د) نسبتاً پر جمعیت <input type="checkbox"/>	۳۵
۰/۲۵	کاهش جمعیت جوان و افزایش سالمندان حاصل کدام فرایند رشد جمعیتی است؟ الف) رشد منفی <input type="checkbox"/> ب) رشد مثبت <input type="checkbox"/> ج) رشد ثابت <input type="checkbox"/> د) رشد خنثی <input type="checkbox"/>	۳۶
۱	جاخالی (۳۷ تا ۴۰)	پ
۰/۲۵ لایه‌ی نازکی از پوسته زمین است که از خرد شدن پوسته زمین به وجود آمده است.	۳۷
۰/۲۵	سواحل خلیج فارس و دریای عمان در زمستان‌ها از مراکز مهم هستند.	۳۸
۰/۲۵	آرامگاه علامه محمد تقی جعفری و در جوار مرقد مطهر امام رضا(ع) قرار دارد.	۳۹
۰/۲۵	اگر تعداد افرادی که متولد می‌شوند کمتر از افرادی باشد که می‌میرند، جمعیت می‌یابد.	۴۰

۲/۵	<p>سوالات جورکردنی (۴۱)</p> <p>شماره گزینه مرتبط با هر یک از عبارتهای الف، ب، ج، د و ه را مقابل آن بنویسید (یک گزینه اضافی است).</p> <p>الف) آخرین حکومت ایران باستان ()</p> <p>ب) نخستین امپراتوری جهانی ()</p> <p>ج) حکومتی بیگانه در ایران باستان ()</p> <p>د) قوم پارت این حکومت را تشکیل دادند. ()</p> <p>ه) نخستین حکومت آریایی در ایران ()</p> <p>۱- مادها</p> <p>۲- سلوکیان</p> <p>۳- هخامنشیان</p> <p>۴- ساسانیان</p> <p>۵- اشکانیان</p> <p>۶- پارسها</p>	ت ۴۱															
۲/۵	تکمیل نمودار (هر مورد ۰/۵ نمره)	ث															
		۴۲															
۱	تکمیل جدول (هر مورد ۰/۲۵ نمره)	ج															
	<table border="1"> <thead> <tr> <th data-bbox="172 1196 422 1279">ردیف</th> <th data-bbox="422 1196 1316 1279">توضیح</th> <th data-bbox="1316 1196 1412 1279">پاسخ</th> </tr> </thead> <tbody> <tr> <td data-bbox="172 1279 422 1357">۱</td> <td data-bbox="422 1279 1316 1357">این سازمان مسئولیت سرشماری جمعیت کشورمان را بر عهده دارد.</td> <td data-bbox="1316 1279 1412 1357"></td> </tr> <tr> <td data-bbox="172 1357 422 1435">۲</td> <td data-bbox="422 1357 1316 1435">رودهایی که از کوه‌های زاگرس سرچشمه می‌گیرند، به این حوضه آبریز می‌ریزند.</td> <td data-bbox="1316 1357 1412 1435"></td> </tr> <tr> <td data-bbox="172 1435 422 1514">۳</td> <td data-bbox="422 1435 1316 1514">این سازمان حفاظت از خاکهای کشورمان را به عهده دارد.</td> <td data-bbox="1316 1435 1412 1514"></td> </tr> <tr> <td data-bbox="172 1514 422 1592">۴</td> <td data-bbox="422 1514 1316 1592">از منابع مهم تأمین آب شهرنشینان و روستاییان است.</td> <td data-bbox="1316 1514 1412 1592"></td> </tr> </tbody> </table>	ردیف	توضیح	پاسخ	۱	این سازمان مسئولیت سرشماری جمعیت کشورمان را بر عهده دارد.		۲	رودهایی که از کوه‌های زاگرس سرچشمه می‌گیرند، به این حوضه آبریز می‌ریزند.		۳	این سازمان حفاظت از خاکهای کشورمان را به عهده دارد.		۴	از منابع مهم تأمین آب شهرنشینان و روستاییان است.		۴۳
ردیف	توضیح	پاسخ															
۱	این سازمان مسئولیت سرشماری جمعیت کشورمان را بر عهده دارد.																
۲	رودهایی که از کوه‌های زاگرس سرچشمه می‌گیرند، به این حوضه آبریز می‌ریزند.																
۳	این سازمان حفاظت از خاکهای کشورمان را به عهده دارد.																
۴	از منابع مهم تأمین آب شهرنشینان و روستاییان است.																
۱/۵	<p>حدس بزن (هر مورد ۰/۵ نمره)</p> <p>با اندکی دقت به سوالات زیر پاسخ دهید.</p> <p>الف) این تمدن حدود ۵ هزار سال قبل در نزدیکی شهر زابل کشف شد. ← <input type="text"/></p> <p>ب) این معبد که شهرت جهانی دارد در نزدیکی شوش است. ← <input type="text"/></p> <p>ج) این تمدن حدود ۱۳ سال پیش در کنار هلیل رود کرمان شناسایی شد. ← <input type="text"/></p>	ج ۴۴															

وصل کردنی: شماره مربوط به ردیف‌های الف، ب، ج و د را در ستون «شماره‌ی مربوطه» بنویسید. (هر مورد ۰/۲۵)

۲



ردیف	نام حکومت	شماره مربوطه	شماره	موسس
الف	مادها		۱	کوروش
ب	هخامنشیان		۲	دی‌اُکو
ج	اشکانیان		۳	اردشیر بابکان
د	ساسانیان		۴	آرشک

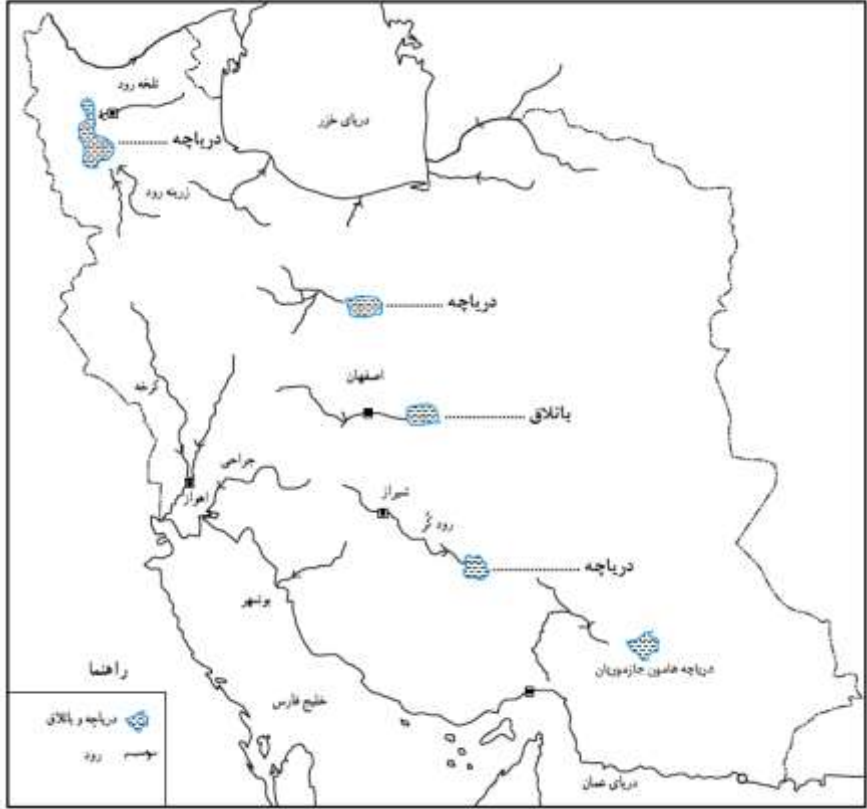
ردیف	نام حکومت	شماره مربوطه	شماره	پایتخت
الف	مادها		۱	گور(فیروزآباد)
ب	هخامنشیان		۲	صدررازه(دامغان)
ج	اشکانیان		۳	بابل
د	ساسانیان		۴	هگمتانه(همدان)

چیستان(هر مورد ۰/۵ نمره)

الف) من کیستم؟ «همین که خبردار شدم هخامنشیان ضعیف و ناتوان شده‌اند، یونانیان را به انتقام‌جویی دعوت کردم و شخصاً همراه سپاهیانم تخت جمشید را به آتش کشیدم».

ب) من کیستم؟ «از جمله منابعی هستم که مورخان برای پی‌بردن به احوال مردم دوره ایران باستان از من استفاده می‌کنند».



۱	تکمیل نقشه: در جای مناسب نام باتلاق و دریاچه‌های خواسته شده را بنویسید. (هر مورد ۰/۲۵ نمره).	۵ ۴۷
۳		ذ
۰/۵	سوالات تشریحی (۴۸ تا ۵۱)	۴۸
۰/۵	به طور کلی در دوره ساسانیان جامعه به دو طبقه تقسیم می‌شد، نام این دو طبقه چه بود؟	۴۹
۱	مبدأ تاریخ مسلمانان چیست؟	۵۰
۱	مهمترین رویداد تاریخی کشورمان، ورود اسلام به ایران بود؛ بر این اساس مورخان تاریخ کشورمان را به دو دوره تقسیم کرده‌اند، شرح دهید.	۵۱
۲۰ نمره	<p>در زمان هخامنشیان، ایرانیان باستان چه زبان و خطی داشتند؟ در زمان اشکانیان و ساسانیان چطور؟</p> <p>۱- زبان ایرانیان باستان در زمان هخامنشیان ()</p> <p>۲- خط ایرانیان باستان در زمان هخامنشیان ()</p> <p>۳- زبان ایرانیان باستان در دوره اشکانیان و ساسانیان ()</p> <p>۴- خط ایرانیان باستان در دوره اشکانیان و ساسانیان ()</p>	۵۱ سؤال

نام و نام خانوادگی:


پایه و رشته:

نام پدر:

شماره داوطلب:

اداره کل آموزش و پرورش شهر تهران

مدیریت منطقه ۲

دیپارتمان دوره اول پسرانه  مرزداران

امتحانات نوبت دوم سال تحصیلی ۹۶-۱۳۹۵

نام درس:

تاریخ امتحان: / / ۱۳۹۵

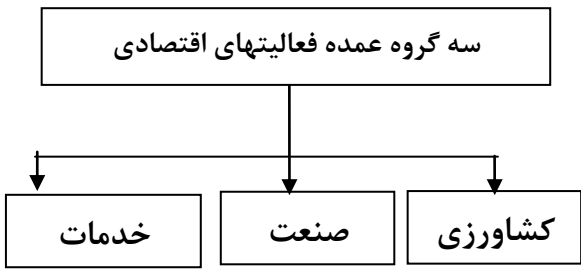
ساعت امتحان: صبح

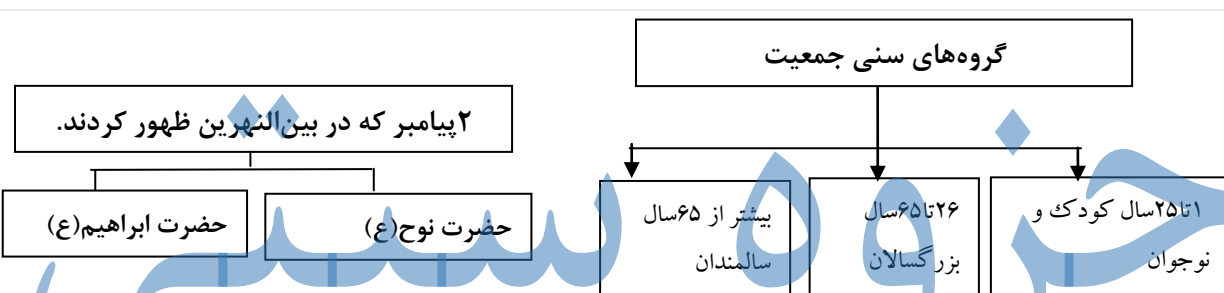
مدت امتحان: دقیقه.

کلید امتحان

ردیف	سؤالات	بارم
فصل اول	۱- گزینه ج	۰/۲۵
	۲- گزینه ج	۰/۲۵
	۳- گزینه ب	۰/۲۵
	۴- مغایر	۰/۲۵
	۵- حقوق متقابل	۰/۲۵
	۶- حق	۰/۲۵
فصل دوم	۷- صحیح	۰/۲۵
	۸- صحیح	۰/۲۵
	۹- گزینه ب	۰/۲۵
	۱۰- گزینه الف	۰/۲۵
	۱۱- گزینه الف	۰/۲۵
	۱۲- اساسی	۰/۲۵
فصل سوم	۱۳- هلال احمر	۰/۲۵
	۱۴- بیمه	۰/۲۵
	۱۵- الف) بیمه	۰/۲۵
	ب) همدلی	۰/۲۵
	۱۶- الف) اجباری	۰/۵
ب) اختیاری		

جزوه سیپی

۰/۵	۱۷- فرد مصرف‌گرا	فصل چهارم
۰/۷۵	۱۸- سه گروه عمده فعالیتهای اقتصادی 	
۰/۲۵	۱۹- نیازها و خواسته‌های انسان	
۰/۵	۲۰- نقشه	فصل پنجم
۱	۲۱- (۱) رشته‌کوه (۲) قله (۳) کوهپایه (۴) دشت	
۰/۲۵	۲۲- صحیح	
۰/۲۵	۲۳- غلط	
۰/۲۵	۲۴- گزینه الف	فصل ششم
۰/۲۵	۲۵- گزینه الف	
۰/۵	۲۶- دما و بارش	
۱	الف سوالات صحیح- غلط (۲۷ تا ۳۰)	
۰/۲۵	۲۷ غلط	
۰/۲۵	۲۸ صحیح	
۰/۲۵	۲۹ صحیح	
۰/۲۵	۳۰ غلط	
۱/۵	ب سوالات چهارگزینه‌ای (۳۱ تا ۳۶)	
۰/۲۵	۳۱ گزینه ج	
۰/۲۵	۳۲ گزینه ج	
۰/۲۵	۳۳ گزینه الف	
۰/۲۵	۳۴ گزینه ج	
۰/۲۵	۳۵ گزینه د	

۰/۲۵		گزینه الف	۳۶														
۱		جاخالی (۳۷ تا ۴۰)	پ														
۰/۲۵		خاک	۳۷														
۰/۲۵		گردشگری	۳۸														
۰/۲۵		شیخ بهایی	۳۹														
۰/۲۵		کاهش	۴۰														
۲/۵		الف) (۳) ب) (۵) ج) (۶) د) (۴) ه) (۱)	ت ۴۱														
۲/۵		تکمیل نمودار (هر مورد ۰/۵ نمره)	ث														
		۴۲															
۱		تکمیل جدول (هر مورد ۰/۲۵ نمره)	ج														
	<table border="1"> <thead> <tr> <th>ردیف</th> <th>توضیح</th> <th>پاسخ</th> </tr> </thead> <tbody> <tr> <td>۱</td> <td>این سازمان مسئولیت سرشماری جمعیت کشورمان را بر عهده دارد.</td> <td>مرکز آمار</td> </tr> <tr> <td>۲</td> <td>رودهایی که از کوه‌های زاگرس سرچشمه می‌گیرند، به این حوضه آبریز می‌ریزند.</td> <td>حوضه آبریز خلیج فارس و دریای عمان</td> </tr> <tr> <td>۳</td> <td>این سازمان حفاظت از خاکهای کشورمان را به عهده دارد.</td> <td>جنگل‌ها، مراتع و آبخیزداری</td> </tr> <tr> <td>۴</td> <td>از منابع مهم تأمین آب شهرنشینان و روستاییان است.</td> <td>رودها</td> </tr> </tbody> </table>	ردیف	توضیح	پاسخ	۱	این سازمان مسئولیت سرشماری جمعیت کشورمان را بر عهده دارد.	مرکز آمار	۲	رودهایی که از کوه‌های زاگرس سرچشمه می‌گیرند، به این حوضه آبریز می‌ریزند.	حوضه آبریز خلیج فارس و دریای عمان	۳	این سازمان حفاظت از خاکهای کشورمان را به عهده دارد.	جنگل‌ها، مراتع و آبخیزداری	۴	از منابع مهم تأمین آب شهرنشینان و روستاییان است.	رودها	۴۳
ردیف	توضیح	پاسخ															
۱	این سازمان مسئولیت سرشماری جمعیت کشورمان را بر عهده دارد.	مرکز آمار															
۲	رودهایی که از کوه‌های زاگرس سرچشمه می‌گیرند، به این حوضه آبریز می‌ریزند.	حوضه آبریز خلیج فارس و دریای عمان															
۳	این سازمان حفاظت از خاکهای کشورمان را به عهده دارد.	جنگل‌ها، مراتع و آبخیزداری															
۴	از منابع مهم تأمین آب شهرنشینان و روستاییان است.	رودها															
۱/۵		حدس بزن (هر مورد ۰/۵ نمره) الف) شهر سوخته ب) معبد چغازنبیل ج) تمدن جیرفت	چ ۴۴														

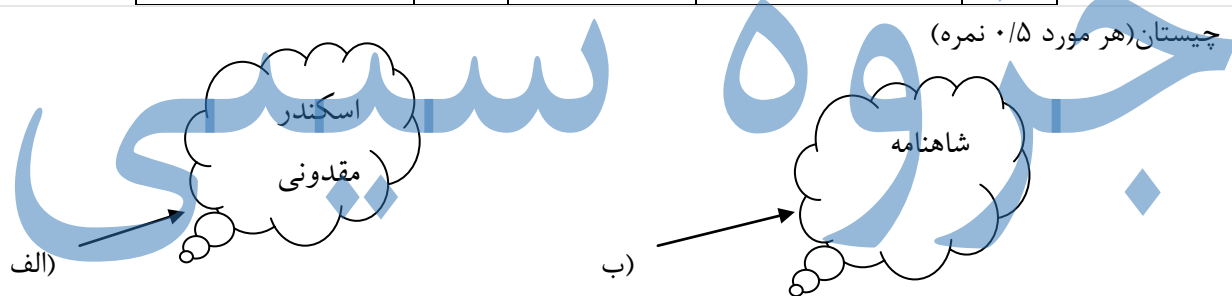
وصل کردنی: شماره مربوط به ردیف‌های الف، ب، ج و د را در ستون شماره‌ی مربوطه بنویسید. (هر مورد ۰/۲۵)

۲

ردیف	نام حکومت	شماره مربوطه	شماره	موسس
الف	مادها	۲	۱	کوروش
ب	هخامنشیان	۱	۲	دی‌اکو
ج	اشکانیان	۴	۳	اردشیر بابکان
د	ساسانیان	۳	۴	آرشک

ردیف	نام حکومت	شماره مرتبه	شماره	پایتخت
الف	مادها	۴	۱	گور(فیروزآباد)
ب	هخامنشیان	۳	۲	صدرروازه(دامغان)
ج	اشکانیان	۲	۳	بابل
د	ساسانیان	۱	۴	هگمتانه(همدان)

۱



به ترتیب از بالا به پایین:
دریاچه ارومیه،
دریاچه قم،
باتلاق گاوخونی و
دریاچه بختگان

۳

سوالات تشریحی (۴۸ تا ۵۱)

۰/۵

طبقه عامه و طبقه بزرگان

۰/۵

هجرت پیامبر اکرم(ص) از مکه به مدینه

۱

۱. تاریخ ایران قبل از اسلام که به آن دوره ایران باستان می‌گویند.
۲. تاریخ ایران دوره اسلامی که با سقوط حکومت ساسانیان و ورود اسلام به ایران آغاز شد.

۱	۱- زبان ایرانیان باستان در زمان هخامنشیان (پارسی باستان) ۲- خط ایرانیان باستان در زمان هخامنشیان (خط میخی) ۳- زبان ایرانیان باستان در دوره اشکانیان و ساسانیان (پارسی میانه یا پهلوی) ۴- خط ایرانیان باستان در دوره اشکانیان و ساسانیان (خط پهلوی)	۵۱
۲۰ نمره	پیروز و سربلند باشید! «سیدهادی کریمی»	۵۱ سؤال

جزوه سیتی